

Ⅱ類 試験問題例

1 教養試験

(1) 知能分野

〔判断推理〕 ある保育園で、園児100人について園庭にあるジャングルジム、ブランコ、滑り台の3種類の遊具で遊んだ状況を調べたところ、次のことが分かった。

ア ジャングルジムで遊んだ園児の人数は48人であり、このうちブランコでも遊んだ園児の人数は9人であった。

イ ブランコで遊んだ園児の人数は35人であり、このうち滑り台でも遊んだ園児の人数は24人であった。

ウ 滑り台で遊んだ園児の人数は64人であり、このうちジャングルジムでも遊んだ園児の人数は30人であった。

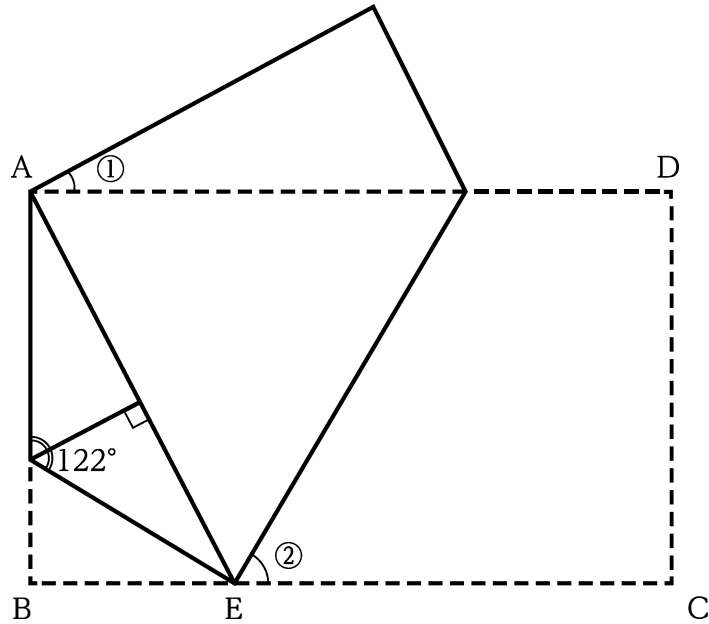
エ どの遊具でも遊ばなかった園児の人数は7人であった。

以上から判断して、1種類の遊具のみで遊んだ園児の人数として、正しいのはどれか。

1. 29人
2. 36人
3. 43人
4. 45人
5. 48人

(正答 5)

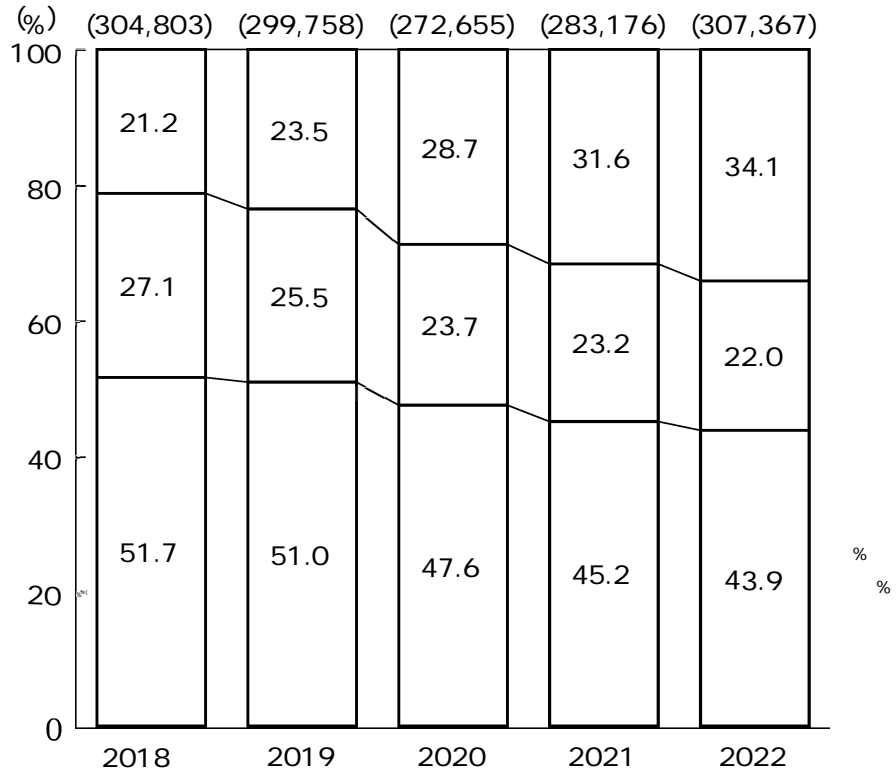
[数的処理] 下の図のように長方形 ABCD を、点 C が点 A に重なるように折り、さらに線分 BE が線分 AE に重なるように折ったとき、角度①と角度②の組合せとして、正しいのはどれか。



- | | ① | ② |
|----|-----|-----|
| 1. | 26° | 58° |
| 2. | 27° | 58° |
| 3. | 26° | 59° |
| 4. | 27° | 59° |
| 5. | 29° | 61° |

(正答 1)

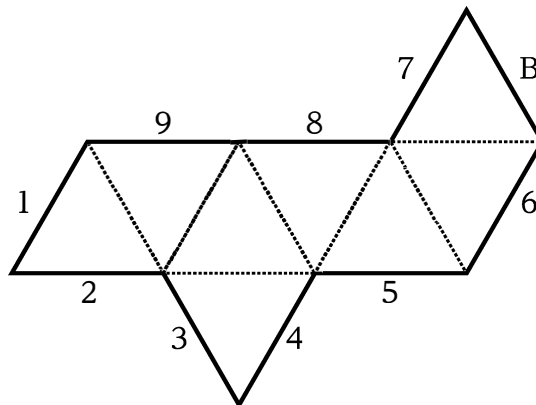
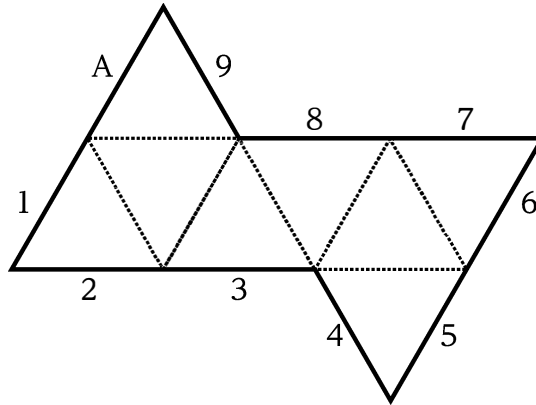
[資料解釈] 次の図から正しくいえるのはどれか。



1. 2018 2020 2020
- 2019
2. 2018 % % 100 2022
- % % 80
3. 2019 2021 % %
- 70,000
4. 2020 2022 3
- 65,000
5. 2022 2022

(正答) □

[空間概念] 下の図のような正八面体の展開図が二つあり、外周の辺に対応して、A、Bの文字及び1～9の数字が定められている。これらの展開図を点線部分で谷折りにして、二つの正八面体を組み立てたとき、辺A、辺Bのそれぞれと接する辺に対応する数字の和として、正しいのはどれか。



1. 14
2. 15
3. 16
4. 17
5. 18

(正答 3)

(2) 知識分野

〔人文科学系〕 鎌倉時代に関する記述として、妥当なのはどれか。

1. 源頼朝は、平氏滅亡後、後白河法皇により、諸国に守護、地頭を設置する権利を認められるとともに、征夷大將軍に任ぜられた。
2. 北条時政の後に執権となった北条義時は、政所と侍所の別当を兼ねることにより執権としての地位を固めるとともに、徳宗と号した。
3. 北条時頼は、有力御家人から執権を補佐する連署を任命するとともに、頼朝以来の道理と呼ばれた武士社会の慣習・道徳をまとめた御成敗式目を制定した。
4. 二度にわたる元寇を経験した北条時宗は、異国警固番役を新たに設置し、全国の御家人を九州に派遣し、博多湾など九州北部の要所の防備を固めた。
5. 足利高氏は、倒幕勢力の鎮圧のため畿内に派遣されたが、後醍醐天皇が隠岐を脱出したことを知ると、反旗をひるがえして鎌倉を攻め、北条氏を滅ぼした。

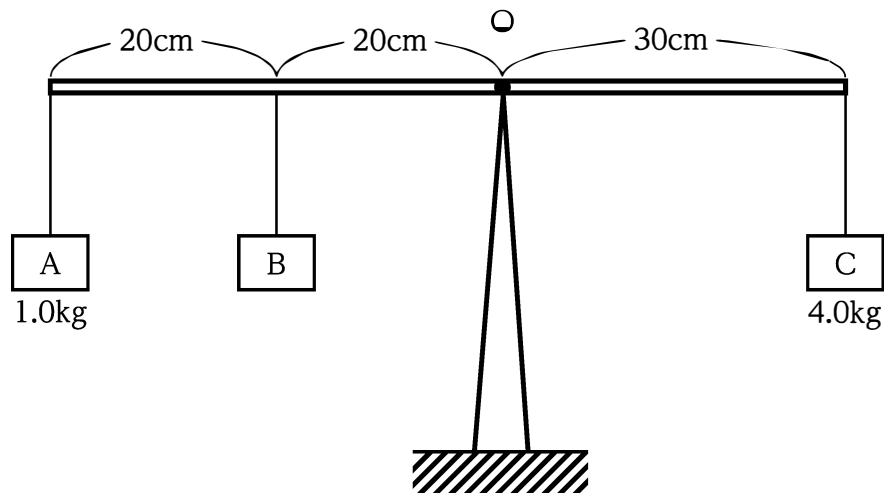
(正答 2)

〔社会科学系〕 市場経済に関する記述として、妥当なのはどれか。

1. 独占の形態として、合併や統合によって規模の利益の拡大を図るカルテルや価格・生産量・販売地域などを協定するトラストなどがある。
2. 外部経済とは、市場を通じることなく、他の経済主体に不利益をもたらすことをいい、例として公害を発生させる企業の活動がある。
3. 対価を払わない人を排除できない、ある人が多く消費しても他の人の消費がその分減ることはない、という特徴を持つ財を公共財という。
4. 完全競争市場において、プライス・リーダーが一定の利潤を確保できるような価格を設定し、他の企業もそれに追従する価格を均衡価格という。
5. 独占や寡占による弊害が消費者に及ぶことを防ぐため、日本では「独占禁止法」が制定されており、この法律の目的を達成するために消費者庁が設置されている。

(正答 3)

[自然科学系] 下の図のように、棒におもりA、B、Cを吊るし、点Oで支えたところ、棒が水平な位置で静止したとき、おもりBの質量として正しいのはどれか。ただし、棒は剛体で、棒及びひもの質量は無視できるものとする。



1. 1.0kg
2. 2.0kg
3. 3.0kg
4. 4.0kg
5. 5.0kg

(正答 4)

2 専門試験

職場のメンタルヘルス対策について、以下の問いに答えなさい。

(1) 職場のメンタルヘルス対策の3つの柱である一次予防、二次予防、三次予防についてそれぞれ説明しなさい。

(2) 次の記述中の空欄①、②に当てはまる一節または語句を記入しなさい。

ストレスチェック制度は、を目的としており、メンタルヘルス対策の3つの柱のうちのための仕組みと位置づけられる。

3 論文

あなたが考える保健師の仕事のやりがいとは何か。これまでの経験に触れて述べなさい。

技能系 試験問題例

1 作文

社会人として人と接する上で大事だと思うことについて触れ、どのような警察行政職員になりたいか述べなさい。